

Examen National du patron d'embarcation Mars 2020 - COMMAR

Module Théorique PE 1

Durée 2H (QCM et Problèmes CARTO et MAREE)

Questions à réponse simple ou multiple

(5 erreurs max)

NOM :

Prénom :

Groupe :

Adresse Mail :

Date de naissance :

1

1. Lors d'une navigation scoutie le port de la brassière est prévu :

- ☐ Uniquement en navigation à la voile
- ☐ En toutes circonstances
- ☐ Par vent de force 2 et plus.

2. Le Patron d'Embarcation :

- ☐ Exerce toujours sous la responsabilité et la surveillance d'un Chef de Flottille.
- ☐ Est autorisé à naviguer de nuit sous certaines conditions (pleine lune, mer 2, force 3).
- ☐ Doit aviser les « Affaires Maritimes » des déplacements de son bateau.

3. Quelle capacité flottabilité minimale de gilet doit-on porter pour naviguer jusqu'à 6 milles :

- ☐ 150N
- ☐ 100N
- ☐ 70N

4. Pour le scoutisme marin cocher les affirmations vraies

- ☐ la navigation de nuit est autorisée
- ☐ la navigation de nuit n'est pas autorisée sauf cas de force majeur
- ☐ Le port du gilet pour le scoutisme marin est obligatoire à bord des navires
- ☐ Le port du gilet pour le scoutisme marin est obligatoire à bord des annexes
- ☐ Le port du gilet pour le scoutisme marin est obligatoire à bord entre 1 mille et 6 milles

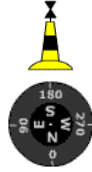
5. Cette balise est une cardinale

- ☐ Ouest
- ☐ Est
- ☐ Sud



6. En route plein sud, le danger est:

- ☐ à droite
- ☐ à gauche



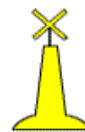
7. Devant moi ces 2 marques :

- ☐ Je sors du port
- ☐ Je vais vers le port
- ☐ J'entre dans le canal secondaire



8. J'aperçois cette balise, je viens :

- ☐ à gauche
- ☐ à droite
- ☐ à droite ou à gauche, sauf indication contraire (autres marques)



9. Une distance sur une carte marine se calcule en mesurant sur:

- ☐ l'échelle des Latitudes
- ☐ l'échelle des Longitudes
- ☐ indifféremment l'une ou l'autre échelle



10. La profondeur d'eau disponible à un endroit et à une heure donnée se calcule en:

- ☐ ajoutant la hauteur d'eau à la sonde
- ☐ soustrayant la hauteur d'eau à la sonde

11. Le zéro hydrographique des cartes marines correspond au niveau:

- ☐ de la plus haute mer (coefficient 120)
- ☐ de la plus basse mer (coefficient 120)
- ☐ moyen de la mer



12. Un navire avec un bicolore noir, il s'agit d'un navire:

- ☐ pilote
- ☐ remorqueur avec remorque de plus de 200m
- ☐ avec chalut, en train de pêcher



13. Un bateau montre cette marque, il est:

- ☐ handicapé par son tirant d'eau
- ☐ au mouillage
- ☐ en train de pêcher



14. Voyant ces feux à l'entrée ou la sortie d'un port:

- je passe prudemment
- j'attends l'autorisation de passer (ex: appel radio VHF)



15. Dans la brume, un son prolongé et répété à intervalles ne dépassant pas 2 mn, il s'agit d'un :

- navire à moteur ayant de l'erre
- navire faisant route mais stoppé, sans erre
- navire en détresse



16. En détresse, vous donnez l'alerte en appelant:

- la SNSM (Société Nationale de Sauvetage en Mer)
- les Affaires Maritimes
- le CROSS



17. Un appel de détresse peut être fait en agitant:

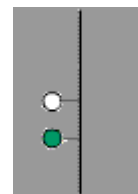
- circulairement un bras
- les 2 bras de haut en bas
- un bras de haut en bas
- circulairement les 2 bras

18. La météo annonce une mer agitée, cela correspond à des vagues de:

- 0,5m à 1,25m
- 1,25m à 2,5m
- 2,5m à 4m

19. Ces 2 feux sur un mât de sémaphore, cela indique:

- marée montante
- vent grand frais toutes directions
- coup de vent ou tempête
- fort coup de vent de Sud-Ouest



20. Le navire de plaisance privilégié est celui qui voit l'autre sur:

- Bâbord
- Tribord
- le navire non privilégié doit manœuvrer et passer sur l'arrière



21. Vous allez croiser le navire B, que faites-vous:

- ☐ je viens à gauche
- ☐ je viens à droite
- ☐ je m'arrête



22. Un mille nautique correspond à une distance de:

- ☐ 1000 mètres
- ☐ 1609 mètres
- ☐ 1852 mètres
- ☐ 2500 mètres

23. Un moyen de repérage lumineux étanche est obligatoire:

- ☐ uniquement sur les navires
- ☐ sur les navires et les Véhicules Nautique à Moteur (VNM)
- ☐ uniquement sur les VNM

24. Pour vous débarrasser de déchets plastiques ou autres, vous:

- ☐ les jetez directement dans la mer
- ☐ les placez dans un sac que vous jetez à la mer au-delà des 300m
- ☐ les placez dans un sac que vous déposez ensuite dans une poubelle à terre

25. Un message de Sécurité est émis pour:

- ☐ signaler tout danger lié à la sécurité de la navigation
- ☐ demander un remorquage suite à une avarie moteur
- ☐ demander une consultation médicale

26. Qui est responsable de l'utilisation de la radio VHF à bord d'un navire:

- ☐ l'utilisateur de la radio
- ☐ le responsable du navire (chef de bord)
- ☐ le propriétaire du navire

27. Vous avez un blessé ou un malade à bord, vous émettez un message:

- ☐ d'urgence (PAN PAN)
- ☐ de détresse (MAYDAY)
- ☐ de sécurité (SECURITE)

28. Pour appeler la Capitainerie d'un port de Plaisance en radiotéléphonie, j'utilise le

- ☐ canal 16
- ☐ canal 72
- ☐ canal 9
- ☐ **Le mot CACHALOT s'épelle**
- ☐ Clara Alfa Clara Hugo Alfa Lisa Octave Tara
- ☐ Carol Adele Carol Helene Adele Laura Olga Tony
- ☐ Charlie Alfa Charlie Hotel Alfa Lima Oscar Tango

29. Pour indiquer une voie d'eau en anglais, vous dites:

- ☐ the ship is flooding
- ☐ the ship is adrift
- ☐ the ship is grounding

30. En route au 270, vous décidez de faire la route inverse. Vous mettez le cap au:

- ☐ 90
- ☐ 180
- ☐ 270

