

Examen National du patron d'embarcation Mars 2021 - COMMAR

Module Théorique PE 1

Durée 2H (QCM et Problèmes CARTO et MAREE)

Questions à réponse simple ou multiple

(30 questions, 6 pages, 5 erreurs max)

NOM :

Prénom :

Groupe :

Mail :

Date de naissance :

Question non obligatoire, pour nous aider à planifier les examens

Je suis **adulte**, je pense avoir le niveau suffisant pour passer l'examen pratique cette année OUI NON

1. En Navigation scoute, je prévois de sortir du port car la marée est haute, et la nuit commence à tomber :


- ☐ Je peux faire ma navigation si je préviens mon correspondant à terre
- ☒ Je ne sors pas car la réglementation ne l'autorise pas
- ☐ Je peux le faire car j'ai de bon spot pour éclairer le plan d'eau

2. Je suis patron d'embarcation de plus de 18 ans. Je peux faire des navigations dans les conditions

- ☒ En flottille encadrée par un chef de flottille, jusqu'à 6 milles d'un abri
- ☒ Jusqu'à 2 milles d'un abri, sous la responsabilité d'un chef de flottille à terre
- ☐ Jusqu'à 6 milles d'un abri, sous la responsabilité d'un chef de flottille à terre

3. Vous rencontrez cette 1ère balise en allant vers le port.

- ☐ Je passe obligatoirement à droite.
- ☒ Je passe indifféremment à droite ou à gauche.
- ☐ La nuit, cette balise émet des éclats rouges.
- ☒ La nuit, cette balise émet 2 éclats blancs.



4. Pour une communication radiotéléphonique en VHF avec un autre navire, je peux utiliser :


- ☐ les canaux 6 ou 8.
- ☐ les canaux 72 ou 77.
- ☐ les canaux 12 ou 78.
- ☐ le canal 70.

5. Un port constitue un « abri » au sens de la réglementation :

- ☐ Toujours.
- ☐ A condition qu'il soit facilement accessible pour mettre les personnes embarquées en sécurité.
- ☐ Uniquement s'il s'agit d'un port de plaisance avec des pontons.

6. Où se trouve le chenal principal ?

- ☐ En A.
- ☐ En B.



7. À quoi sert le canal 16 ?

- ☐ À converser avec les capitaineries.
- ☐ À converser avec la marine nationale.
- ☐ À prendre contact avec un autre navire avant de dégager sur un autre canal plus approprié (canal navire <-> navire).
- ☐ À diffuser les appels ou messages relatifs à la sécurité en général, dont celle des passagers et du navire.

8. Route au Sud, cette balise devant vous :

- ☐ je laisse à bâbord.
- ☐ je laisse à tribord.
- ☐ je laisse indifféremment à tribord ou bâbord



9. Cette tourelle est une :

- ☐ Cardinale Nord.
- ☐ Cardinale Est.
- ☐ Cardinale Sud.
- ☒ Cardinale Ouest.



10. Quel est votre sens de navigation ?

- ☐ J'entre au port.
- ☒ Je sors du port.



11. Pour passer la nuit au mouillage sur ancre, la longueur de chaîne doit être

- ☐ Au moins égale au marnage + pied de pilote
- ☒ Au moins 3 fois la hauteur d'eau à marée haute
- ☐ Au moins 4 fois la longueur de mon bateau

12. Dans quel cas la veille visuelle et auditive n'est-elle pas obligatoire en navigation ?

- ☐ Quand je navigue à moins de 5 nds.
- ☐ Quand je navigue à plus de 300 m du rivage.
- ☐ Quand je suis équipé d'un radar et d'un GPS pouvant déclencher des alertes sonores.
- ☒ En aucun cas

13. Qu'est-ce qu'un site Natura 2000 ?

- ☒ C'est un site de préservation de la diversité biologique et de valorisation du patrimoine naturel.
- ☐ C'est un site de mouillage réservé aux plaisanciers naturistes.
- ☐ C'est un site naturel conservé en l'état qu'il était en l'an 2000.
- ☐ C'est un site où la navigation est interdite

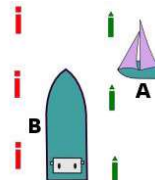


14. La diffusion d'un Bulletin Météo spécial (BMS) par VHF est précédé par :

- ☐ un message de détresse.
- ☐ un message d'urgence.
- ☒ un message de sécurité.
- ☐ un message de routine.


15. Dans ces conditions, quel navire doit manœuvrer ?

- ☒ Le voilier A.
- ☐ Le navire de commerce B.



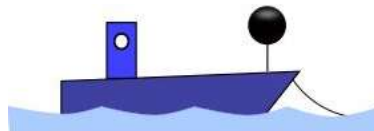
16. Sur le navire rouge, cap à l'est,

- ☒ je viens vers tribord
- ☐ je viens vers bâbord
- ☐ je m'éloigne indifféremment à tribord ou bâbord .



17. Arrivant en rade, vous voyez ce navire devant vous.

- ☐ C'est un navire en détresse, je porte assistance.
- ☐ Je conserve mon cap et ma vitesse.
- ☐ J'émet un signal sonore.
- ☒ J'effectue une manœuvre pour le contourner

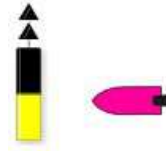


18. Je suis PE et au moment où la flottille se prépare à partir le matin, un équipier paraît malade :

- ☐ Je demande en priorité au jeune d'appeler ses parents
- ☒ Je prévient mon Chef de flottille immédiatement
- ☐ On part et si ça empire pendant la navigation je préviendrai mon Chef de flottille

19. Faisant cap à l'ouest :

- ☒ je viens vers tribord
- ☐ je viens vers bâbord
- ☐ je m'éloigne indifféremment à tribord ou bâbord

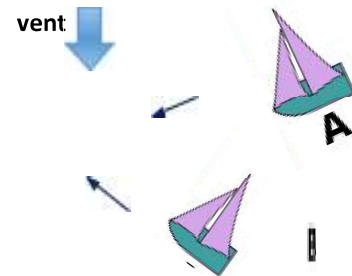


20. Quel est l'angle du feu de poupe d'un navire ?

- ☐ 112,5°.
- ☒ 135°.
- ☐ 225°.
- ☐ 360°

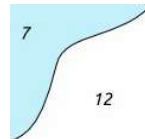
21. Lequel de ces deux voiliers est prioritaire ?

- ☐ Le voilier A
- ☒ Le voilier B



22. Qu'indique la ligne de séparation entre la zone bleue et la zone blanche ?

- ☒ La ligne de sonde des 10 mètres.
- ☐ La limite de la zone des 300 mètres.
- ☐ La limite de la zone basique à 2 milles.
- ☐ La limite de la zone côtière à 6 milles.



23. Sur la carte marine, ce symbole indique :

- ☒ Une roche à fleur d'eau à marée basse.
- ☐ Une zone avec des coffres de mouillage.
- ☐ Une marque danger isolé.



24. Le vent et le courant dans des directions opposées : cela augmente la hauteur des vagues.

- ☒ Vrai.
- ☐ Faux.

25. Quelle est la correspondance en Beaufort ?

- ☐ 4 Beaufort.
- ☐ 5 Beaufort.
- ☐ 6 Beaufort.
- ☒ 7 Beaufort.

La météo annonce des vents de 55 km/h.

26. La S.N.S.M. est :

- ☒ Une association de bénévoles qui assure le sauvetage en mer.
- ☐ Une société privée qui coordonne et assure le sauvetage en mer.

27. La bouée, moyen d'assistance à une personne tombée à l'eau, doit mentionner :

- ☒ Le nom du navire.
- ☐ Le nom du port d'attache.
- ☐ Le nom du propriétaire.
- ☒ L'immatriculation du navire

28. Avant une sortie en mer, je vérifie que le matériel de sécurité embarqué est compatible avec :

- ☐ Les conditions météorologiques prévues.
- ☒ la distance d'éloignement prévue par rapport à un abri.
- ☒ Le nombre de personnes embarquées.
- ☐ Le fait que je vais faire une navigation diurne ou nocturne



29. Le phare du cap Sicié émet un signal lumineux

- ☒ Deux éclats toutes les 6 secondes.
- ☐ Un scintillement continu de 9 minutes
- ☐ Deux éclats qui durent 6 secondes chacun



30. Cette balise est une :

- ☐ une marque tribord pour un chenal d'accès à la plage
- ☐ Une marque spéciale.
- ☐ Une balise de danger isolé.



FIN DES QUESTIONS