

## Examen du Patron d'Embarcation 16/03/2024 V1

!! Consigne de correction : pas de demi-point, une réponse partielle est une réponse fausse !!

**A : QCM (/30 points) – 5 fautes max**

**Commenté [AB1]:** @Frédéric Ortial On rajoute : "Pour chaque question, une ou plusieurs réponses sont possibles" ?

1 Vous pouvez passer un appel téléphonique d'urgence directement au CROSS en composant le :

- ☐ 16
- ☒ 196
- ☐ 1616

2 Un signal de détresse est entendu par le CROSS et les autres navires s'il est émis par :

- ☒ VHF
- ☐ Téléphone portable

3 A quoi sert le canal 16 ?

- ☐ A converser avec les capitaineries
- ☐ A converser avec la marine nationale
- ☒ A prendre contact avec un autre navire avant de dégager sur un autre canal plus approprié
- ☒ A diffuser les appels ou messages relatifs à la sécurité en général, dont celle des passagers et du navire

4 La vérification des Equipements Individuels de Flottabilité est :

- ☒ Réalisée chaque année
- ☒ Consignée sur un registre annuel
- ☐ Obligatoire uniquement pour les modèles gonflables

5 Le nom de bateau TIBOULEN s'épèle en alphabet international :

- ☐ TANGO / INDIA / BRAVO / OCTOBER / UNIFORM / LUKE / ECHO / NOVEMBER
- ☒ TANGO / INDIA / BRAVO / OSCAR / UNIFORM / LIMA / ECHO / NOVEMBER
- ☐ TANGO / INDIA / BRAVO / OCTOBER / UNIFORM / LIMA / ECHO / NOVEMBER
- ☐ TANGO / INDIA / BRAVO / OSCAR / UNIFORM / LUKE / ECHO / NOVEMBER

6 Dans quelle situation la transmission d'un message PANPAN par VHF est-elle appropriée ?

- ☐ Un incendie en cours dans le compartiment inboard du moteur
- ☒ Un bout coincé dans l'hélice, sans danger immédiat d'échouage
- ☐ Un équipier est inconscient
- ☐ J'aperçois des troncs d'arbre à la dérive

7 Pour toute navigation scoute que j'encadre, je dois posséder :

- ☐ Un visa marin validé par la COMMAR
- ☐ Un correspond à terre
- ☐ Les attestations de réussite au « test préalable à la pratique des activités nautiques en ACM »

8 La zone de navigation basique s'étend jusqu'à :

- ☐ 1 mille d'un abri
- ☐ 2 milles d'un abri
- ☐ 6 milles d'un abri

9 Titulaire du PE je peux encadrer un voilier habitable, notamment :

- ☐ jusqu'à 6 milles d'un abri avec un CF à terre si je suis majeur
- ☐ jusqu'à 2 milles d'un abri avec un CF à terre si je suis mineur
- ☐ jusqu'à 6 milles d'un abri avec un CF sur autre embarcation
- ☐ si les conditions de vent sont respectées

10 Qu'est-ce qu'un abri ?

- ☐ Une crique
- ☐ Une partie de la côte protégée du vent
- ☐ Endroit de la côte où tout engin, embarcation ou navire et son équipage peuvent se mettre en sécurité en mouillant, atterrissant ou accostant et en repartir sans assistance

11 De quoi dépendent les 4 catégories réglementant le matériel de sécurité présent à bord du bateau ?

- ☐ De l'état de la mer
- ☐ De la force du vent
- ☐ De la hauteur des vagues
- ☐ De la distance de navigation par rapport à un abri

12 Cap au 195° :

- ☐ Je vais à droite
- ☐ Je vais à gauche



13 Sur le navire rouge, cap à l'est,

- ☒ je viens à droite
- ☐ je viens à gauche
- ☐ je viens indifféremment à droite ou à gauche



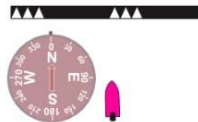
14 En rentrant au port, cette marque représente :

- ☒ un chenal préféré à tribord
- ☐ un chenal préféré à bâbord



15 La nuit, cap au nord, je vois 3 scintillements :

- ☐ Je laisse sur mon tribord
- ☒ Je laisse sur mon bâbord



16 Quel est votre sens de navigation ?

- ☒ J'entre au port
- ☐ Je sors du port



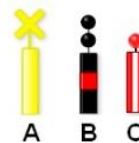
17 Venant du Sud, je vois cette bouée dont les voyants sont absents :

- ☐ Je viens à droite
- ☒ Je viens à gauche



18 Quelle est la balise qui peut indiquer la présence d'un câble sous-marin ?

- ☒ A – Une marque spéciale
- ☐ B – Une bouée de danger isolé
- ☐ C – Une bouée d'eaux saines



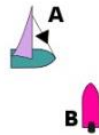
19 Cette bouée indique :

- ☒ Le côté tribord d'un chenal de plage
- ☐ Des eaux saines
- ☐ Un danger isolé
- ☐ Un danger nouveau



20 Lequel de ces navires est privilégié ?

- ☐ Le navire A
- ☒ Le navire B



21 Quel est l'angle de l'arrière d'un navire dans lequel nous sommes rattrapant ?

- ☐ 90°
- ☐ 112,5°
- ☒ 135°
- ☐ 225°

22 J'ai un doute sur ce que fait un navire qui se dirige vers moi. J'attire son attention en émettant :

- ☐ 3 sons brefs
- ☐ 4 sons brefs
- ☒ Au moins 5 sons brefs
- ☐ Un signal de détresse

23 Le navire B rattrape le navire A. Quoi doit manœuvrer ?

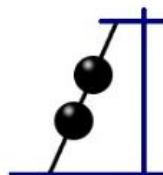
- ☐ Le navire A
- ☒ Le navire B



**Commenté [AB2]:** @Frédéric Ortial préciser que ces sont 2 navires à moteur afin qu'il n'y ait pas de malentendu ?

24 Que signifie ce signal vu en mâture d'un navire ?

- ☐ Navire au mouillage
- ☒ Navire non maître de sa manœuvre
- ☐ Navire échoué



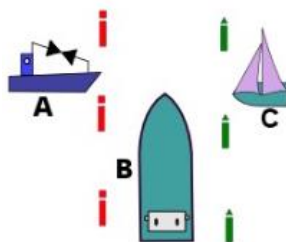
25 Le navire à moteur et le voilier fond des routes directement opposées. Qui doit manœuvrer ?

- ☐ Le voilier
- ☒ Le navire à moteur
- ☐ Les 2 navires



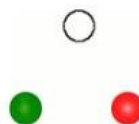
26 Dans ces conditions, qui doit manœuvrer ?

- ☒ Le pêcheur A
- ☐ Le navire à moteur de plus de 10m B
- ☒ Le voilier C



27 Vous voyez ces feux, droit devant vous. Que faites-vous ?

- ☒ Je viens à droite
- ☐ Je viens à gauche
- ☐ Je viens indifféremment à droite ou à gauche



28 Le bulletin météo annonce un avis de vent frais, quelle sera la force du vent ?

- ☐ 4 Beaufort
- ☐ 5 Beaufort
- ☒ 6 Beaufort

29 La force 4 de l'échelle de Beaufort correspond à des vents :

- ☒ Entre 11 et 16 nœuds
- ☐ Entre 11 et 16 km/h
- ☐ Entre 17 et 21 nœuds
- ☐ Entre 17 et 21 km/h

30 Le matériel d'armement ou de sécurité côtier comprend obligatoirement :

- ☒ Un dispositif lumineux
- ☒ Dispositif de repérage et d'assistance pour personne tombée à la mer de type « bouée fer à cheval » ou « bouée couronne »
- ☐ Harnais et sa sauvegarde (longe) par personne embarquée pour les voiliers
- ☒ Un compas magnétique ou un GPS indiquant le cap