

**Examen National du patron d'embarcation****12 Mars 2022 - COMMAR****Module Théorique PE****QCM : Durée 30 mn**

---

**30 Questions à réponse simple ou multiple**

Pour chaque question :      1 point si (et seulement si) aucune erreur  
   0 point si 1 ou plusieurs erreurs  
   Pas de demi-point  
QCM réussi : 25 points minimum

**NOM :****Prénom :****Groupe :****Mail :****Date de naissance :**

---

**1- Titulaire du PE et sous la responsabilité d'un Chef de Flottille, je peux naviguer :**

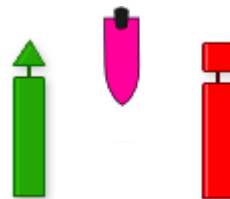
- ☐ Jusqu'à force 5 inclus
- ☐ Jusqu'à force 6 inclus
- ☐ Jusqu'à 5 milles d'un abri
- ☐ Jusqu'à 6 milles d'un abri

**2- Une de mes équipières tombe à la mer. La première action à faire est**

- ☐ J'affale les voiles
- ☐ Je nomme une vigie qui m'indique la position de l'homme à la mer
- ☐ Je contacte mon chef de flottille

**3- Dans quel sens va ce navire ?**

- ☐ Vers le port.
- ☐ Vers le large.



**4- Lors d'une navigation, le correspondant à terre doit être prévenu :**

- ☐ Uniquement en fin de navigation
- ☐ De la durée prévue de la navigation
- ☐ Au début et à la fin de la navigation
- ☐ Du programme de la navigation

**5- Les informations que doivent forcément contenir le brief de navigation :**

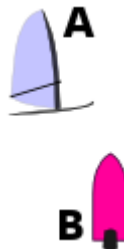
- ☐ Les horaires de marée
- ☐ Le menu du jour
- ☐ Les abris de repli

**6- Pour discuter avec la flottille je peux utiliser le(s) canal(aux) VHF suivant(s) :**

- ☐ 6
- ☐ 9
- ☐ 77
- ☐ 73

**7- Qui est privilégié ?**

- ☐ la planche à voile A.
- ☐ le zodiac B.

**8- Quel type de message transmettez-vous par VHF si la vie d'une personne est en danger ?**

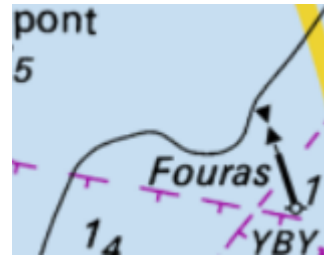
- ☐ PANPAN PANPAN PANPAN
- ☐ SECURITE SECURITE SECURITE
- ☐ DISTRESS DISTRESS DISTRESS
- ☐ MAYDAY MAYDAY MAYDAY

**9- Que se passe-t-il lorsqu'on appuie sur la touche « 16 » sur une VHF ?**

- ☐ On appelle directement le CROSS
- ☐ On bascule directement sur le canal 16
- ☐ Un message de détresse est directement envoyé

10- Cette balise Fouras est une cardinale :

- ☐ Ouest
- ☐ Est
- ☐ Nord
- ☐ Sud



11- Dans quel type de situation utiliseriez-vous le message « PANPAN » ?

- ☐ En cas d'Homme à la mer
- ☐ En cas de panne mécanique
- ☐ Pour transmettre un avis urgent aux navigateurs

12- Quel terme vous annonce le plus souvent du mauvais temps ?

- ☐ Anticyclone
- ☐ Dépression

13- Le phénomène de vent contre courant amplifie :

- ☐ La hauteur des vagues
- ☐ Le marnage
- ☐ La vitesse du courant
- ☐ La vitesse du vent apparent

14- Le gilet de sauvetage doit être homologué pour :

- ☐ 100 kg
- ☐ 100 m
- ☐ 100 N

15- La brise thermique se rencontre :

- ☐ Au large
- ☐ A proximité des côtes

16- En entrant au port, cette marque représente :

- ☐ un chenal préféré à tribord.
- ☐ un chenal préféré à bâbord.



**17- Un « Vent frais » indique :**

- ☐ Un vent venant du large
- ☐ Un vent de température froide
- ☐ Un vent de force 6 Beaufort

**18- Comment épelez-vous « Nautile » ?**

- ☐ November / Alpha / Ulule / Tango / Italy / Lima / Emily
- ☐ November / Alpha / Uniform / Tango / India / Lima / Echo
- ☐ November / Alpha / Unique / Tango / Index / Lima / Email
- ☐ November / Alpha / Ultimate / Tango / Illegal / Lima / Economic

**19- Une hauteur de vague de 1,5m correspond à :**

- ☐ Mer belle
- ☐ Mer agitée
- ☐ Mer forte

**20- Pouvez-vous utiliser votre VHF à terre ?**

- ☐ Oui
- ☐ Non

**21- Quelle est la limite de vent navigable dans le cadre scout en voile légère ?**

- ☐ Force 2
- ☐ Force 3
- ☐ Force 4
- ☐ Force 5

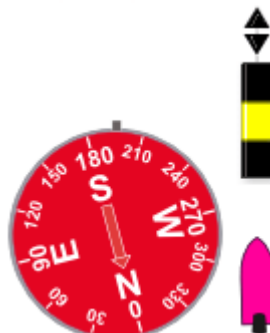
**22- La météo marine est consultable :**

- ☐ Sur le site internet de Météo France
- ☐ Auprès des sémaphores
- ☐ Aux capitaineries

**23- Cap au 195 vers la balise..**

:

- ☐ je vais à droite
- ☐ je vais à gauche.



**24- Dans la bande côtière des 300 m, la vitesse est limitée à :**

- ☐ 3 nds.
- ☐ 5 km/h.
- ☐ 5 nds.
- ☐ 9 km/h.

**25- Cette marque indique :**

- ☐ un danger isolé.
- ☐ des eaux saines.
- ☐ une cardinale nord.
- ☐ une marque spéciale.



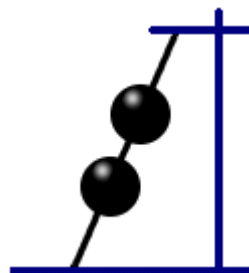
**26- Le navire B rattrape le navire A. Qui est privilégié ?**

- ☐ le rattrapant (B).
- ☐ le rattrapé (A).
- ☐ ni l'un, ni l'autre.



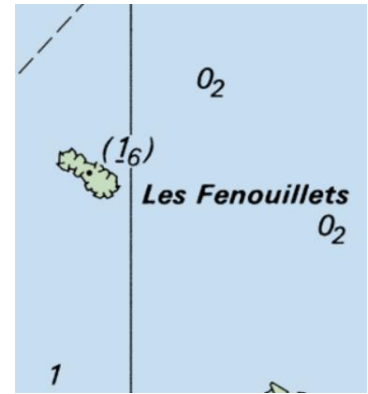
**27- Que signifie ce signal vu en mâture d'un navire ?**

- ☐ navire au mouillage.
- ☐ navire non maître de sa manœuvre.
- ☐ navire échoué.

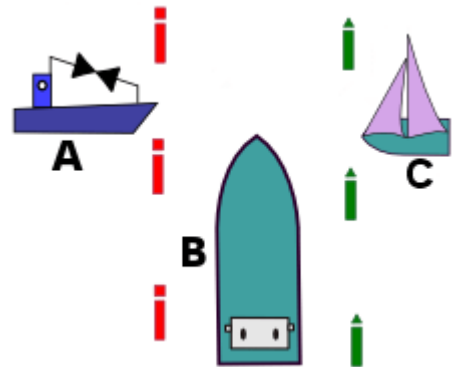


**28- La mention (1<sub>6</sub>) sur cette carte signifie**

- ☐ La roche « Les Fenouillets » découvre de 1,6 m aux plus basses mers
- ☐ A côté de la roche, la profondeur est de 1,6 m.
- ☐ A côté de la roche, il reste 1,6 m d'eau aux plus basses mers.

**29- Dans ces conditions, qui doit manœuvrer ?**

- ☐ Le pêcheur A.
- ☐ Le navire à moteur de + 20 mètres B.
- ☐ Le voilier C.

**30- Un Scout marin doit porter son gilet de sauvetage:**

- ☐ Dès qu'il pleut
- ☐ Dès qu'il fait nuit
- ☐ Dès qu'il est sur un bateau

\*\*\* FIN du QCM \*\*\*